

***ТЕСТ: УСТРОЙСТВО АК-74. ВОИНСКИЕ ЗВАНИЯ***

***ПРОГРАММА: ОСНОВЫ БЕЗОПАСНОСТИ  
ЖИЗНЕДЕЯТЕЛЬНОСТИ***

***Раздел: Основы военной службы***

## Вариант 1


Внимательно посмотрите на рисунки. Из предложенных вариантов названий основных частей и механизмов автомата выберите один, с вашей точки зрения, правильный:

1.



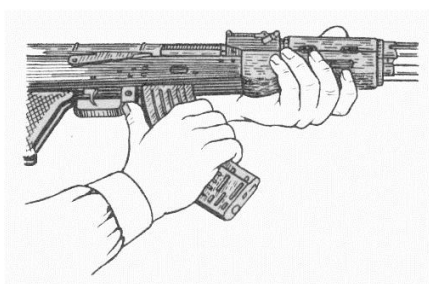
- а) ствол со ствольной коробкой, прицельным приспособлением и прикладом;
- б) ствол с прицелом и ложем;
- в) ствол с газовой камерой, прицельным приспособлением и прикладом.

2.



- а) возвратный механизм;
- б) возвратная пружина;
- в) механизм возврата.

3. Какая из предложенных операций неполной разборки автомата изображена на рисунке?



- а) отделение магазина;
- б) присоединение магазина;
- в) отделение цевья.

4. Разместите операции неполной разборки автомата в необходимом порядке:

- а) отделить шомпол;
- б) отделить магазин;
- в) отделить крышку ствольной коробки;
- г) отделить затворную раму с затвором;
- д) отделить затвор от затворной рамы;
- е) отделить возвратный механизм;
- ж) отделить газовую трубку со ствольной накладкой;
- з) вынуть пенал с принадлежностью.


5. Какие составы военнослужащих установлены в Вооруженных Силах Российской Федерации, других войсках и воинских формированиях:

- а) солдаты и матросы, сержанты и старшины, прапорщики и мичманы, младшие офицеры, старшие офицеры, высшие офицеры;
- б) солдаты и матросы, прапорщики, офицеры, средние офицеры, старшие офицеры;
- в) солдаты, матросы и курсанты, юнги и боцманы, старшины и мичманы, младшие офицеры, офицеры, средние офицеры, старшие офицеры, генералы.

## Вариант 2

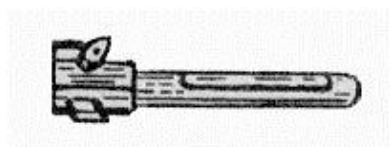
Внимательно посмотрите на рисунки. Из предложенных вариантов названий основных частей и механизмов автомата выберите один, с вашей точки зрения, правильный:

1.



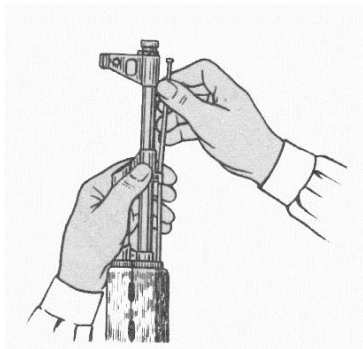
- а) крышка ствольной коробки;
- б) ствольная коробка;
- в) газовая трубка.

2.



- а) затвор;
- б) боек;
- в) затворное устройство.

3. Какая из предложенных операций неполной разборки автомата изображена на рисунке?



- а) отделение шомпола;
- б) присоединение шомпола;
- в) отделение газовой камеры.

4. Разместите операции сборки автомата после неполной разборки в необходимом порядке:

- а) присоединить затвор к затворной раме;
- б) присоединить газовую трубку со ствольной накладкой;
- в) присоединить шомпол;
- г) присоединить крышку ствольной коробки;
- д) присоединить затворную раму с затвором к ствольной коробке;
- е) вложить пенал в гнездо приклада;
- ж) присоединить возвратный механизм;
- з) присоединить магазин к автомату;
- и) спустить курок с боевого взвода и поставить на предохранитель.


5. Солдаты и матросы могут иметь следующие воинские звания:

- а) рядовой, матрос, ефрейтор, старший матрос;
- б) рядовой, матрос, старший солдат, старший матрос, младший сержант, старшина 3-й статьи;
- в) рядовой, матрос, юнга, боцман, старший солдат.

## Вариант 3

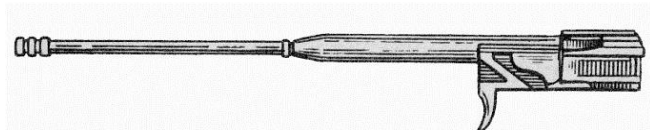
Внимательно посмотрите на рисунки. Из предложенных вариантов названий основных частей и механизмов автомата выберите один, с вашей точки зрения, правильный:

1.



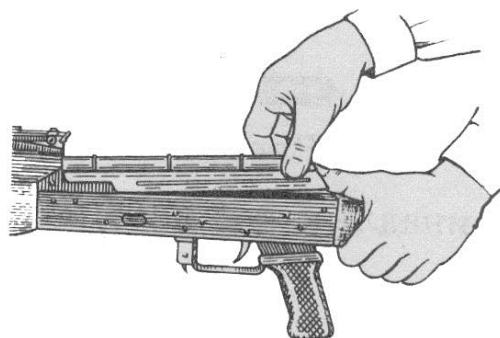
- а) штык-нож;
- б) штык;
- в) штык-тесак.

2.



- а) затворная рама с газовым поршнем;
- б) газовый поршень;
- в) рама для запирания канала ствола.

3. Какая из предложенных операций неполной разборки автомата изображена на рисунке?



- а) отделение крышки ствольной коробки;
- б) отделение ствольной рамы;
- в) отделение приклада.

4. Разместите операции сборки автомата после неполной разборки в необходимом порядке:

- а) присоединить затвор к затворной раме;
- б) присоединить газовую трубку со ствольной накладкой;
- в) присоединить шомпол;
- г) присоединить крышку ствольной коробки;
- д) присоединить затворную раму с затвором к ствольной коробке;
- е) вложить пенал в гнездо приклада;
- ж) присоединить возвратный механизм;
- з) присоединить магазин к автомату;
- и) спустить курок с боевого взвода и поставить на предохранитель.


5. Сержанты и старшины могут иметь следующие воинские звания:

- а) младший сержант, сержант, старший сержант, старшина, старшина 2-й статьи, старшина 1-й статьи, главный старшина, главный корабельный старшина;
- б) младший сержант, сержант, прапорщик, боцман, мичман, старший прапорщик;
- в) ефрейтор, сержант, прапорщик, старший прапорщик, мичман, главный морской старшина.

## Вариант 4

Внимательно посмотрите на рисунки. Из предложенных вариантов названий основных частей и механизмов автомата выберите один, с вашей точки зрения, правильный:

1.



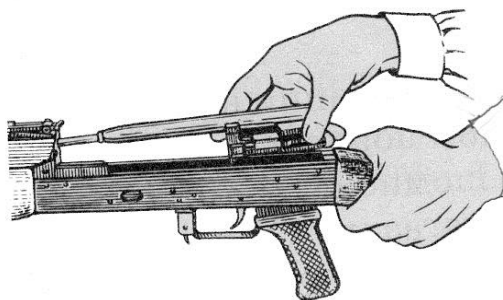
- а) газовая трубка со ствольной накладкой;
- б) ствольная накладка с газовой трубкой;
- в) газовая трубка.

2.



- а) пенал с принадлежностью;
- б) затвор;
- в) принадлежность.

3. Какая из предложенных операций неполной разборки автомата изображена на рисунке?



- а) отделение затворной рамы с затвором;
- б) отделение затвора от затворной рамы;
- в) отделение затвора.

4. Разместите операции неполной разборки автомата в необходимом порядке:

- а) отделить шомпол;
- б) отделить магазин;
- в) отделить крышку ствольной коробки;
- г) отделить затворную раму с затвором;
- д) отделить затвор от затворной рамы;
- е) отделить возвратный механизм;
- ж) отделить газовую трубку со ствольной накладкой;
- з) вынуть пенал с принадлежностью.

5. Младшим офицером соответствуют следующие воинские звания:

- а) младший лейтенант, лейтенант, старший лейтенант, капитан, капитан-лейтенант;
- б) лейтенант, старший лейтенант, капитан, майор, капитан-лейтенант, капитан 3-го ранга;
- в) младший лейтенант, лейтенант, старший лейтенант, капитан, капитан 1-го ранга, капитан 2-го ранга, капитан 3-го ранга.